

**STARK** digital!

# LESEPROBE

## WIRTSCHAFT/ RECHT

Allgemeinbildendes Gymnasium



0682 D1

# VERFÜGBARE JAHRGÄNGE

BUNDESLAND	BESCHREIBUNG	JAHRGANG
<b>Baden-Württemberg</b>	Wirtschaft – Gymnasium	<b>ab 2011</b>
	VWL – Berufliches Gymnasium	<b>ab 2008</b>
<b>Bayern</b>	Wirtschaft und Recht – Gymnasium	<b>ab 2011</b>

**Abitur Wirtschaft und Recht (Bayern G8) – Schwerpunkt Wirtschaft**  
**Übungsaufgabe im Stil der Abiturprüfung**

Der Bundeshaushalt spiegelt die Aufgaben des Staates in Deutschland wider und steckt gleichzeitig den finanziellen Rahmen für den Staat ab.

- 1 Erläutern Sie anhand von Beispielen aus dem Bundeshaushalt (M 1) die Aufgaben des Sektors Staat in der Sozialen Marktwirtschaft und zeigen Sie anhand des Kreislaufmodells, wie der Staat diese Aufgaben erfüllt.

12 BE

Ungeachtet der Sparerfolge der Großen Koalition bleibt die Haushaltskonsolidierung angesichts der staatlichen Gesamtverschuldung ein politisches Dauerthema.

- 2.1 Begründen Sie ausgehend von den Materialien M 2 und M 3 die Notwendigkeit der Konsolidierung des Staatshaushalts. Stellen Sie dabei auch Zusammenhänge zwischen M 1, M 2 und M 3 her.
- 2.2 Arbeiten Sie aus M 2 weitere Ziele, die sich die CDU/CSU in ihrem Regierungsprogramm gesetzt hat, heraus. Zeigen Sie auch mithilfe von M 1, dass zwischen dem Ziel der Konsolidierung des Staatshaushalts und den anderen in M 2 genannten Zielen sowohl komplementäre als auch konkurrierende Beziehungen bestehen.
- 2.3 Beurteilen Sie anhand der Materialien M 4 bis M 7, inwieweit die Behauptungen der Regierung in M 2 den Tatsachen entsprechen.

34 BE

Auch die Geldpolitik der Europäischen Zentralbank hat über den sogenannten Leitzins einen Einfluss auf das Wirtschaftsgeschehen im Eurosystem und damit auch auf Erfolg oder Misserfolg nationaler wirtschaftspolitischer Maßnahmen.

- 3.1 Stellen Sie unterschiedliche Ursachen von Inflation dar und beurteilen Sie vor diesem Hintergrund anhand der Materialien M 8 bis M 10 kritisch die Meinung der Volkswirte, es gäbe ein „Ende der Geldflut“ (M 8).
- 3.2 Erläutern Sie auch mithilfe einer Grafik, wie sich Leitzinserhöhungen auf die Gewinnsituation eines Unternehmens auswirken können.

22 BE

Die Automobilindustrie ist eine der Schlüsselbranchen der deutschen Wirtschaft. Immer öfter starten Automobilhersteller und Importeure Rückrufaktionen, aber nicht immer wissen die Kunden davon. Es gibt mittlerweile sogar nach Marken sortierte Rückrufdatenbanken im Internet.

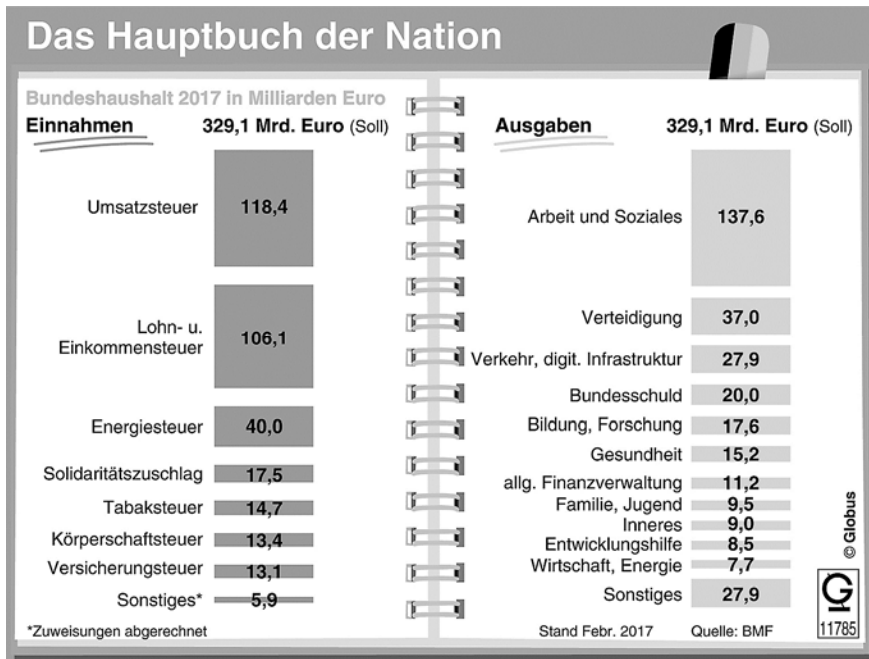
- 4.1 Prüfen Sie im Gutachtenstil, ob I von V die Reparatur des Schiebedachs und den Austausch der Elektronik (M 11) verlangen kann.
- 4.2 Begründen Sie anhand des Sachverhalts (M 11, M 12) die betriebswirtschaftliche Notwendigkeit dieser Rückrufaktion aus Sicht des Herstellers. Zeigen Sie dabei auch, dass wirtschaftliche und rechtliche Aspekte meist nicht voneinander getrennt werden können.

Das deutsche Recht ist in verschiedene Bereiche gegliedert, zu denen unter anderem das Zivil- und das Strafrecht gehören.

- 4.3 Zeigen Sie, dass Paul wegen seines Verhaltens gegenüber Voss (M 13) sowohl mit zivilrechtlichen als auch mit strafrechtlichen Konsequenzen rechnen muss.

32 BE  
100 BE

## M 1 Das Hauptbuch der Nation – Bundeshaushalt 2017 (Soll)



© dpa-infografik

## M 2 Auszug (1) aus dem Regierungsprogramm 2017–2021 der CDU/CSU

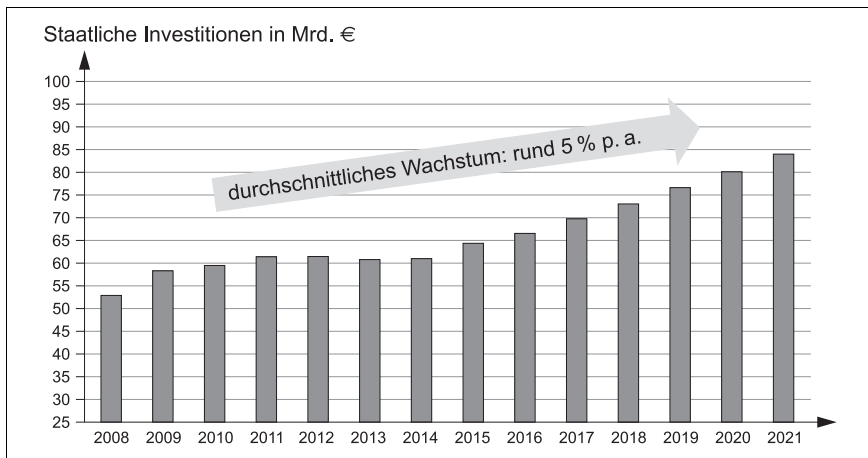
Wir wollen unseren Kindern und Enkelkindern ein geordnetes Gemeinwesen hinterlassen: Mit eigenen Gestaltungsspielräumen und ohne erdrückende Lasten aus der Vergangenheit. Der Staat darf dauerhaft nicht mehr ausgeben, als er einnimmt. Deshalb sind solide Staatsfinanzen so wichtig. [...] CDU und CSU

5 haben in den vergangenen Jahren den Bundeshaushalt saniert und dabei gleichzeitig die Ausgaben in Bildung und Forschung erheblich gesteigert sowie kräftig in die öffentliche Infrastruktur investiert. Durch gutes Wirtschaftswachstum, niedrige Zinsen und solide Haushaltsführung ist es [...] gelungen, seit 2014 keine neuen Schulden aufzunehmen. [...] Damit halten wir auch die

10 Schuldenbremse des Grundgesetzes ein. Wir haben sogar erhebliche Überschüsse erzielt und daraus zusätzliche Investitionen und unvorhergesehene Ausgaben finanziert. Inzwischen weist sogar der „staatliche Gesamthaushalt“, also die Haushalte von Bund, Ländern und Gemeinden insgesamt, einen Überschuss aus. [...] Wir versprechen für die kommende Regierungsperiode:



## M7 Investitionen



Quelle: Bundesministerium der Finanzen, eigene Berechnungen. Datenbasis: Statistisches Bundesamt, Februar 2017; 2017 bis 2021: BMF-Projektion

## M8

### EZB signalisiert Ende der Geldflut

Europas Währungshüter tasten sich an einen Ausstieg aus ihrer ultralockeren Geldpolitik heran. Bei der Zinsentscheidung am Donnerstag in Frankfurt verzichtete die Europäische Zentralbank (EZB) auf die zuletzt übliche Formulierung, dass die Notenbank ihre milliardenschweren Anleihenkäufe ausweiten könnte, sollten sich die Rahmenbedingungen verschlechtern.

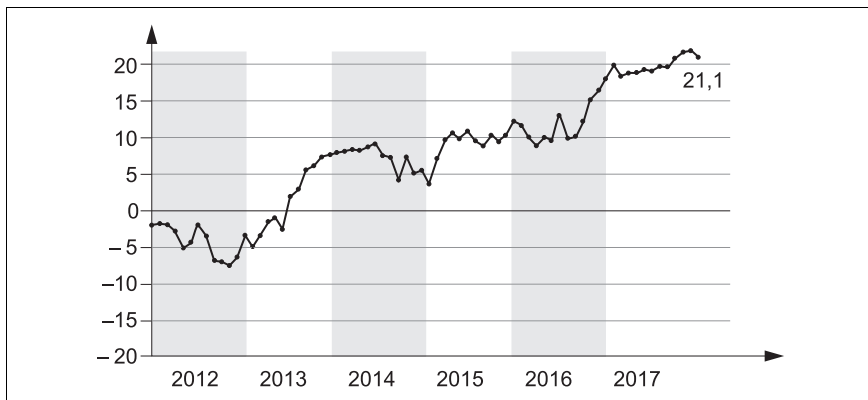
Volkswirte werten das als Signal zur Vorbereitung der Finanzmärkte auf ein Ende der Geldflut. Den Leitzins im Euroraum beließ der EZB-Rat wie erwartet auf dem Rekordtief von 0 Prozent. Zudem müssen Geschäftsbanken, die Geld bei der Notenbank parken, dafür weiterhin 0,4 Prozent Strafzinsen zahlen.

Im Oktober hatte die EZB ihr gewaltiges Kaufprogramm für Staats- und Unternehmensanleihen um neun Monate bis mindestens Ende September 2018 verlängert, das monatliche Volumen von Januar an aber auf 30 Milliarden Euro halbiert.

Mit viel billigem Geld versucht die EZB seit Jahren, der Konjunktur auf die Sprünge zu helfen und zugleich die Teuerung anzuziehen. Angestrebt wird Preisstabilität bei einer Teuerungsrate von knapp unter 2,0 Prozent – weit genug entfernt von der Nullmarke. Denn dauerhaft niedrige oder gar sinkende Preise könnten Unternehmen und Verbraucher dazu bringen, Investitionen aufzuschieben – das würde die Konjunktur abwürgen.

Quelle: mg/dpa, EZB signalisiert Ende der Geldflut, Manager Magazin vom 08.03.2018, <http://www.manager-magazin.de/politik/europa/ezb-mario-draghi-signalisiert-ende-der-geldflut-a-1197119.html>

## M 9 GfK-Konsumklima Europa; Konsumklima EU 28, Dezember 2017



Quelle: GfK-Verbraucherbefragung im Auftrag der EU-Kommission/12/17, [https://www.gfk.com/fileadmin/user\\_upload/dyna\\_content/DE/documents/Press\\_Releases/2018/Q4\\_17\\_Indic\\_DE\\_CCEurope\\_d.pdf](https://www.gfk.com/fileadmin/user_upload/dyna_content/DE/documents/Press_Releases/2018/Q4_17_Indic_DE_CCEurope_d.pdf)

## M 10 Preisentwicklung Euroraum

(Veränderung gegenüber dem Vorjahr in %)									
	2015	2016	2017	2017 Sep.	2017 Okt.	2017 Nov.	2017 Dez.	2018 Jan.	2018 Feb.
HVPI (Gesamt- index)	0,0	0,2	1,5	1,5	1,4	1,5	1,4	1,3	1,2

Quelle: [https://www.bundesbank.de/Redaktion/DE/Downloads/Veroeffentlichungen/EZB\\_Wirtschaftsberichte/2018/2018\\_02\\_ezb\\_wb.pdf?\\_\\_blob=publicationFile](https://www.bundesbank.de/Redaktion/DE/Downloads/Veroeffentlichungen/EZB_Wirtschaftsberichte/2018/2018_02_ezb_wb.pdf?__blob=publicationFile)

## M 11

- Kurz nach ihrem 18. Geburtstag kauft Ingrid (I) beim Autohändler Voss (V) einen fünf Monate alten Vorführwagen des Typs „Xenos II“. Nach Zahlung des Kaufpreises von 11 600 € fährt I stolz mit dem Auto nach Hause. Das Auto verfügt über verschiedene praktische Extras, z. B. eine Zentralverriegelung, die gleichzeitig das Schiebedach schließt. Vier Wochen später sperrt I das Fahrzeug wie gewohnt ab und bemerkt nicht, dass das Schiebedach einen Spalt offenbleibt. Während der Nacht regnet es stark und das eindringende Wasser verursacht Schäden an der Elektronik. In der Werkstatt wird ihr mitgeteilt, dass der Austausch des entsprechenden Moduls 450 € kosten würde.
- 10 Zwei Wochen zuvor hatte V einen Brief des Fahrzeugherstellers erhalten (M 12). Er hatte jedoch vergessen, die darin enthaltene Information an die betroffenen Kunden weiterzuleiten.



## M 12

### **Xenos Qualitätssicherung**

#### **Rückrufaktion**

An alle Vertragshändler

Bei den Fahrzeugen Xenos II treten bei der Schließautomatik des Schiebedachs vereinzelt Störungen auf. Die volle Funktionsfähigkeit kann durch Austausch eines Gummiformteils (Teile Nr. MG-1299) wiederhergestellt werden.

Wir bitten Sie darum, Ihre Kunden umgehend zu informieren und die entsprechende Reparatur vorzunehmen. Setzen Sie sich bitte vor Ausführung der Arbeiten mit der Xenos Qualitätshotline in Verbindung.

Mit freundlichen Grüßen

Xenos Technical Support  
(Region Deutschland)

## M 13

Nach dem Ärger mit I geht Voss (V) zur Eröffnung eines neuen Biergartens, in dem der 22-jährige Student Paul (P), der ständig unter Geldmangel leidet, als Schankkellner sein Einkommen aufbessert. Der Biergartenbetreiber Wirth hatte ihn bereits vor dem Eröffnungstag sorgfältig eingewiesen und zufrieden fest-

5 gestellt, dass P sich äußerst geschickt anstellt.

Da am Eröffnungstag reger Betrieb herrscht, bildet sich eine lange Schlange am Bierausschank. Der bereits gestresste P schenkt einige Krüge nicht ganz voll. Der Gast V beschwert sich darüber lautstark: „Das ist eine Unverschämtheit! Darf denn hier jeder Trottel an den Zapfhahn?“ P lässt sich diese Be-

10 schimpfung nicht gefallen: Er schenkt den Maßkrug zwar nach, schüttet aber einen Teil des Biers – wie aus Versehen – über den hellen Sommeranzug von V. Dieser ist empört und schreit: „Das hast du absichtlich gemacht! Mein Designeranzug ist hinüber. Der hat 800 € gekostet! Ich werde dich verklagen!“



© **STARK Verlag**

[www.stark-verlag.de](http://www.stark-verlag.de)  
[info@stark-verlag.de](mailto:info@stark-verlag.de)

Der Datenbestand der STARK Verlag GmbH  
ist urheberrechtlich international geschützt.  
Kein Teil dieser Daten darf ohne Zustimmung  
des Rechteinhabers in irgendeiner Form  
verwertet werden.

**STARK**